

## ÔN TẬP HỌC KỲ 1 - ĐỊA LÝ 11

**Câu 1:** Trong quá trình phát triển nền kinh tế Hoa Kỳ, đặc điểm nào là ưu thế lớn nhất của vị trí địa lý ?

- A. Giáp hai đại dương lớn của thế giới      B. Trong khu vực kinh tế năng động  
C. Trong vùng ít thiên tai      D. Ở trung tâm lục địa châu Mỹ

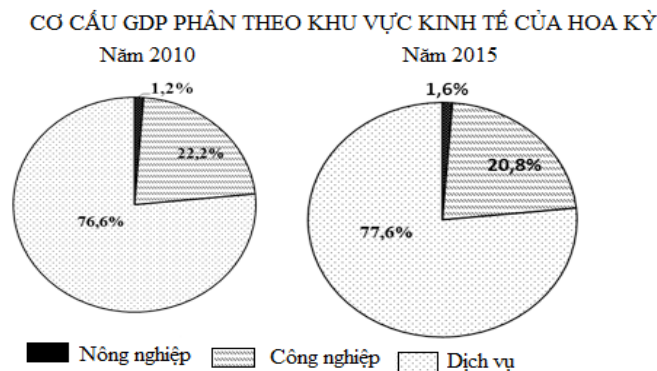
**Câu 2:** Có diện tích rừng lớn, khí hậu ôn đới hải dương ở Hoa Kỳ là vùng

- A. Tây Bắc      B. Đông Bắc      C. Tây Nam      D. Đông Nam

**Câu 3:** Nền kinh tế EU phụ thuộc nhiều vào hoạt động

- A. xuất nhập khẩu      B. khai thác khoáng sản  
C. giao dịch ngân hàng      D. sản xuất nông nghiệp

**Câu 4:** Cho biểu đồ:



Nhận xét nào sau đây là đúng trong cơ cấu GDP phân theo khu vực kinh tế Hoa Kỳ?

- A. Công nghiệp chiếm tỉ trọng thấp nhất.      B. Tăng tỉ trọng công nghiệp.  
C. Tăng tỉ trọng dịch vụ.      D. Giảm tỉ trọng nông nghiệp.

**Câu 5:** Ba trụ cột EU theo Hiệp định Maastricht là

- A. cộng đồng châu Âu, chính sách đối ngoại và an ninh chung, hợp tác về tư pháp và nội vụ  
B. hội đồng châu Âu, ủy ban chính phủ, tòa án châu Âu  
C. cộng đồng châu Âu, tòa án châu Âu, hội đồng bộ trưởng  
D. hội đồng châu Âu, tòa án châu Âu, hội đồng bộ trưởng

**Câu 6:** Hiện nay dân số các nước phát triển

- A. gia tăng chậm hơn nước đang phát triển      B. chiếm phần lớn của thế giới  
C. tỉ lệ trẻ em tăng nhanh      D. ngày càng tăng nhanh

**Câu 7:** Thành phần dân cư đứng thứ nhất ở Hoa Kỳ là

- A. da trắng      B. da màu      C. da đen      D. Anh diêng

**Câu 8:** Vùng núi phía tây Hoa Kỳ có những dãy núi chạy theo hướng

- A. tây bắc-đông nam      B. vòng cung  
C. đông bắc-tây nam      D. bắc-nam

**Câu 9:** Vùng thường bị bão lớn, lốc xoáy trên lãnh thổ Hoa Kỳ là

- A. Tây Nam      B. Đông Nam      C. Tây Bắc      D. Đông Bắc

**Câu 10:** Nguyên nhân chính gây ra lũ thung lũng Ô-dôn là

- A. các hóa chất sử dụng trong công nghiệp    B. khí thải của các nhà máy công nghiệp  
 C. khí thải của các phương tiện giao thông    D. khí thải CFC trong sản xuất công nghiệp

**Câu 11:** Đến năm 2007 có bao nhiêu quốc gia sử dụng đồng Ó rô là đồng tiền chung ?

- A. 25                                    B. 13                                    C. 27                                    D. 24

**Câu 12:** Cơ quan đưa ra quyết định cơ bản của những người đứng đầu nhà nước của EU là

- A. hội đồng bộ trưởng                                    B. hội đồng châu Âu  
 C. quốc hội châu Âu                                        D. tòa án châu Âu

**Câu 13:** Bước cuối cùng trong kế hoạch thống nhất kinh tế và tiền tệ của EU là

- A. thống nhất thị trường chứng khoán            B. thống nhất chính sách đối ngoại  
 C. mỗi quốc gia trở thành một tiểu bang        D. phát hành và sử dụng đồng tiền chung

**Câu 14:** Mưa axit tạo hậu quả chủ yếu

- A. làm ô nhiễm nước sông, ao, hồ                    B. tăng cường xâm nhập mặn  
 C. gây đục thủy tinh thể ở người                    D. làm chết các sinh vật ở ao, hồ

**Câu 15:** Diện tích phần lãnh thổ chính của Hoa Kỳ rộng hơn diện tích nước

- A. Liên Bang Nga    B. Bra xin                                    C. Trung Quốc                                    D. Ca na đa

**Câu 16:** Nguồn nước ngọt trên thế giới hiện nay bị ô nhiễm chủ yếu do nguyên nhân nào sau đây?

- A. Chất thải công nghiệp chưa xử lý.                    B. Đắm tàu chở dầu trên đại dương.  
 C. Khai thác quá mức tài nguyên rừng.                D. Khí thải các khu công nghiệp.

**Câu 17:** Thương mại thế giới phát triển mạnh là biểu hiện của toàn cầu hóa về

- A. khoa học.                                    B. văn hóa.                                    C. môi trường.                                    D. kinh tế.

**Câu 18:** Sự tương phản về trình độ phát triển kinh tế - xã hội giữa các nước phát triển và các nước đang phát triển **không** thể hiện ở chỉ số nào sau đây?

- A. Thu nhập bình quân theo đầu người.                B. Số người trong độ tuổi lao động.  
 C. Chỉ số phát triển con người.                                D. Cơ cấu GDP theo khu vực kinh tế.

**Câu 19:** Hệ quả của toàn cầu hóa kinh tế hiện nay là

- A. thúc đẩy sản xuất phát triển.                                B. hạn chế hợp tác giữa các nước.  
 C. làm chậm tăng trưởng kinh tế.                                D. làm giảm giá trị xuất nhập khẩu.

**Câu 20:** Già hóa dân số dẫn đến hậu quả nào sau đây?

- A. Kìm hãm tăng trưởng kinh tế.                                B. Tăng nhanh dân số trong tương lai.  
 C. Có lực lượng lao động trẻ.                                        D. Giải quyết việc làm khó khăn.

**Câu 21:** Cho bảng số liệu:

GDP VÀ DÂN SỐ CỦA HOA KÌ NĂM 2015

GDP (Tỷ USD)	Dân số (Triệu người)
18036,6	323,9

Theo bảng số liệu, GDP bình quân của Hoa Kỳ năm 2015 là

- A. 5568,75 USD/ người.                                    B. 55,685 USD/ người.  
 C. 55685,7 USD/ người.                                    D. 55687,5 USD/ người.

**Câu 22:** Ở Việt Nam, vùng sẽ chịu ảnh hưởng nặng nề nhất của biến đổi khí hậu do nước

biển dâng là

A. duyên hải Nam Trung Bộ.

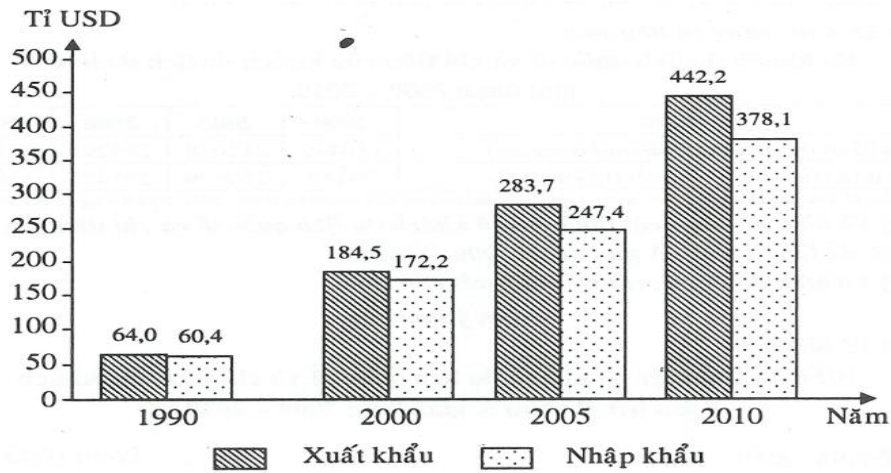
B. đồng bằng sông Cửu Long.

C. Bắc Trung Bộ.

D. đồng bằng sông Hồng.

**Câu 23:** Cho biểu đồ:

**GIÁ TRỊ XUẤT NHẬP KHẨU CỦA XIN -GA -PO GIAI ĐOẠN 1990- 2010**



Theo biểu đồ, nhận xét nào sau đây đúng về xuất khẩu và nhập khẩu của Xin ga po giai đoạn 1990-2010?

A. Xuất khẩu giảm, nhập khẩu tăng.

B. Cả xuất khẩu và nhập khẩu đều tăng.

C. Xuất khẩu tăng, nhập khẩu giảm.

D. Nhập khẩu luôn lớn hơn xuất khẩu.

**Câu 24:** Nước nào sau đây là thành viên của Hiệp hội các quốc gia Đông Nam Á (ASEAN)?

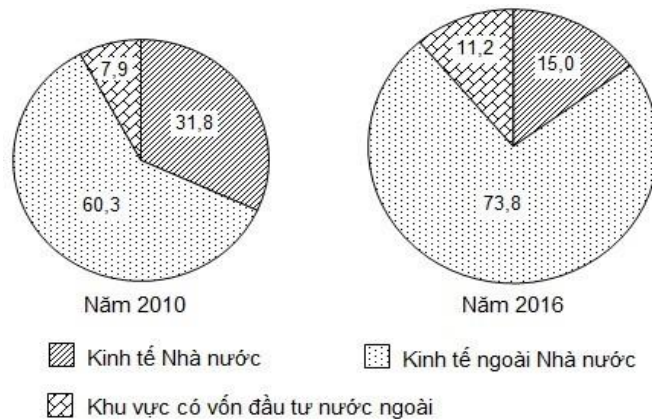
A. Thái Lan.

B. Thụy Điển.

C. Phần Lan.

D. Đan Mạch.

**Câu 25:** Cho biểu đồ



Biểu đồ trên thể hiện nội dung

A. Quy mô và tốc độ tăng doanh thu du lịch lữ hành nước ta theo thành phần kinh tế.

B. Quy mô và cơ cấu doanh thu du lịch lữ hành nước ta theo thành phần kinh tế.

C. Tình hình tăng doanh thu du lịch lữ hành nước ta theo thành phần kinh tế.

D. Cơ cấu doanh thu du lịch lữ hành nước ta theo thành phần kinh tế.

**Câu 26:** Các nước đang phát triển tập trung ở

A. khu vực Tây Âu.

B. khu vực Bắc Mỹ.

C. khu vực Đông Nam Á.

D. khu vực Đông Á.

**Câu 27:** Cho bảng số liệu:

TỈ LỆ SINH CỦA MỘT SỐ QUỐC GIA NĂM 2019

Quốc gia	U-gan-đa	Pa-ki-xtan	Thụy Điển	Việt Nam
Tỉ lệ sinh (‰)	39	29	11	17

Dựa vào bảng số liệu, vẽ biểu đồ thể hiện tỉ lệ sinh của các quốc gia năm 2019 chọn biểu đồ

- A. miền.                      B. cột.                      C. tròn.                      D. đường.

**Câu 28:** Trong những thập niên vừa qua, loài người đã tương đối thành công trong việc hợp tác giải quyết vấn đề

- A. Giảm thiểu ô nhiễm môi trường.                      B. Bảo vệ hòa bình, chống chiến tranh hạt nhân.  
C. Hạn chế sự gia tăng dân số.                      D. Khủng bố quốc tế và phạm tội ma túy.

**Câu 29:** Cảnh quan nào sau đây chiếm diện tích chủ yếu ở Mĩ La tinh?

- A. Rừng, xa van.                      B. Bán hoang mạc.                      C. Hoang mạc.                      D. Đài nguyên.

**Câu 30:** Các nước phát triển thường có

- A. đầu tư nước ngoài ít.                      B. cơ cấu dân số trẻ.  
C. chất lượng cuộc sống cao.                      D. tỉ lệ sinh cao.

**Câu 31:** Biện pháp hữu hiệu để có thể ngăn chặn các cuộc xung đột, khủng bố là

- A. sự hợp tác tích cực giữa các quốc gia với nhau.                      B. áp dụng khoa học công nghệ.  
C. tăng cường và siết chặt an ninh nội địa.                      D. nâng cao mức sống của nhân dân từng nước.

**Câu 32:** Khu vực Mĩ La tinh có đặc điểm tự nhiên nào sau đây?

- A. Mạng lưới sông ngòi thưa thớt.                      B. Nguồn khoáng sản phong phú.  
C. Cảnh quan chủ yếu là hoang mạc.                      D. Khí hậu có tính chất khô nóng.

**Câu 33:** Nguyên nhân chủ yếu dẫn đến tình trạng môi trường toàn cầu đang bị ô nhiễm và suy thoái nặng nề là

- A. sự tăng trưởng hoạt động nông nghiệp.                      B. sự gia tăng dân số trên thế giới .  
C. sự tăng trưởng hoạt động của dịch vụ.                      D. sự tăng trưởng hoạt động công nghiệp.

**Câu 34:** Phần lớn lãnh thổ châu Phi khí hậu có đặc điểm nào sau đây?

- A. Ôn hòa.                      B. Mưa nhiều.                      C. Khô nóng.                      D. Băng giá.

**Câu 35:** Địa danh nào sau đây là tên hoang mạc lớn nhất ở châu Phi?

- A. Xa-ha-ra.                      B. Cai-rô.                      C. Ê-ti-ô-pi.                      D. Công-gô.

**Câu 36:** Để bảo vệ động thực vật khỏi nguy cơ tuyệt chủng cần

- A. Đưa vào sách đỏ bảo vệ.                      B. Tăng cường nuôi trồng.  
C. Đưa vào các khu vực phù hợp.                      D. Không được khai thác bừa bãi.

**Câu 37:** Già hóa dân số có biểu hiện nào sau đây?

- A. Gia tăng tự nhiên nhanh.                      B. Tỉ lệ sinh rất cao.  
C. Cơ cấu dân số trẻ.                      D. Gia tăng tự nhiên thấp.

**Câu 38:** Cho bảng số liệu:

GDP VÀ DÂN SỐ CỦA NHẬT BẢN NĂM 2015

